

Elektriciteit

Ten Nude L4

Wat is elektriciteit?

- A. Een metaal
- B. Elektronen die stromen
- C. Koper
- D. Geleiden

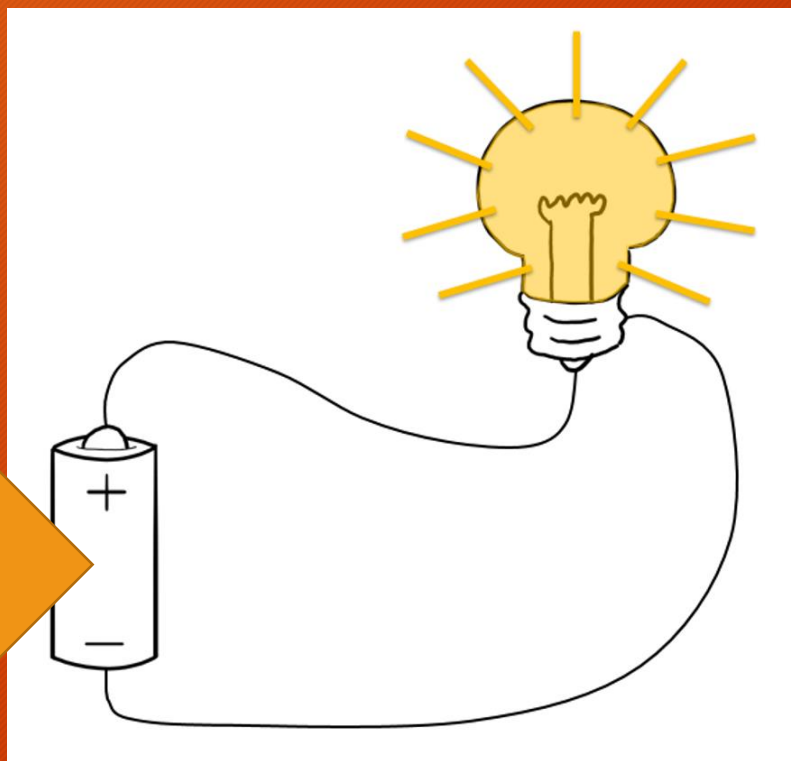

Stroom gaat van...

- A. Noord naar Zuid
- B. Plus naar min
- C. Noord naar Oost
- D. Min naar plus



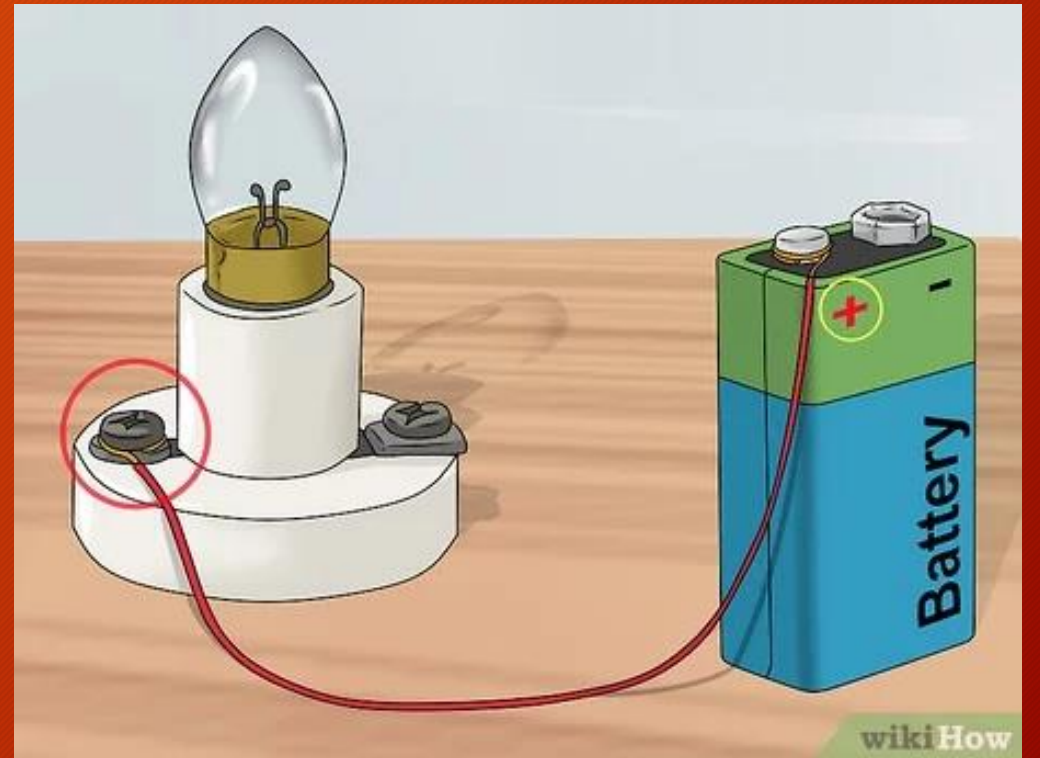
Hoe heet dit onderdeel?

batterij



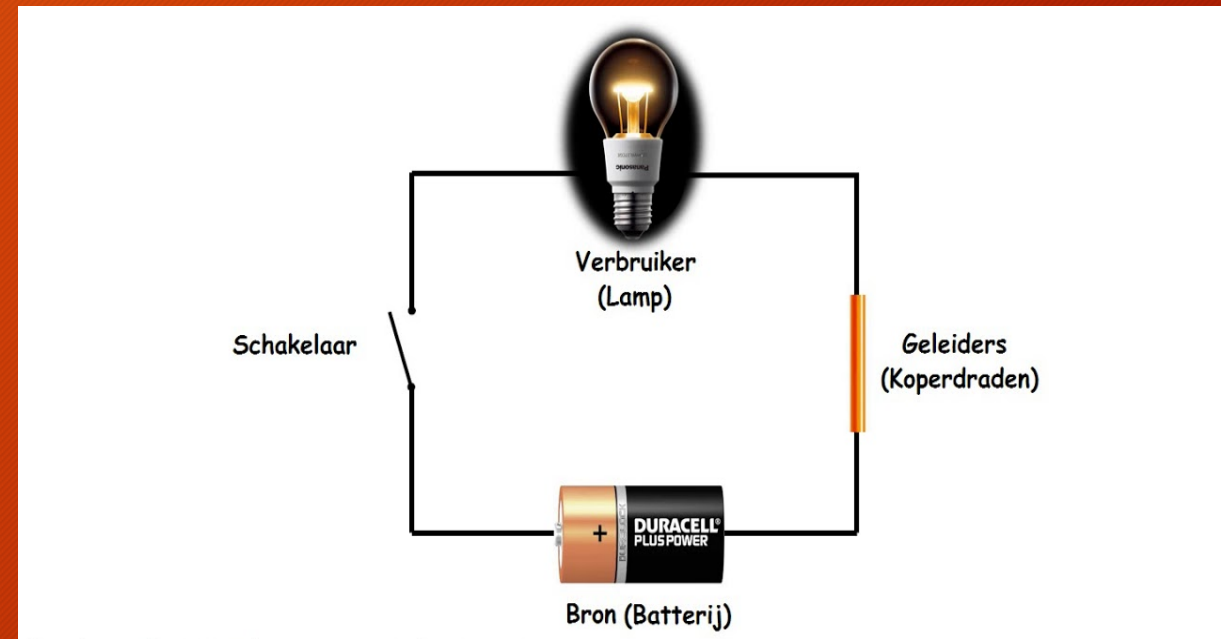
Waarom brandt het lampje niet?

- A. Er mist een stuk draad
- B. De batterij staat omgekeerd
- C. Het lampje is te klein
- D. De elektronen kunnen niet naar huis



Waarom brandt het lampje niet?

- A. De batterij is plat
- B. De batterij is omgekeerd
- C. De schakelaar is uit
- D. Het lampje heeft geen goesting



Dit is een.....

- A. Gloeilamp
- B. Ledlamp
- C. Snoer van lampen
- D. Stopcontact



Dit is een.....

- A. Stekker
- B. Snoer
- C. Stopcontact
- D. Batterij



Welk materiaal is geleidend?

- A. Hout
- B. Plastic
- C. **Koper**
- D. Zand

Welk materiaal is isolerend?

- A. Hout
- B. Aluminium
- C. Water
- D. Glas

Welk voorwerp is geleidend?

- A. Rietje
- B. Lego
- C. **Spijker**
- D. Taart